

**DAV MODEL SCHOOL, KSTP, ASANSOL**  
**SESSION: 2024-25**  
**HOLIDAY HOMEWORK**  
**SUBJECT: ENGLISH**  
**WORKSHEET:1**

Name \_\_\_\_\_ Class \_\_\_\_\_ Sec \_\_\_\_\_ Roll no \_\_\_\_\_

---

**1. Read the following passage and answer the questions:**

Once upon a time, there was a little rabbit named Benny. He loved to hop and play in the meadow. One sunny day, he found a shiny, red apple. Benny was so happy! He took a big bite and it tasted delicious. Benny shared the apple with his friends, and they all had a fun picnic together.

a. What did Benny find in the meadow?

---

---

b. What did Benny do after he found the apple?

---

---

c. Write 'T' for True and 'F' for False for the following statements.

i) Benny does not like to hop and play in the meadow. \_\_\_\_\_

ii) Benny and his friends had a picnic after finding the apple. \_\_\_\_\_

**2. Underline all the naming words in the following sentences.**

a) Mr. Roy is sitting in the library.

b) My mother went to the Galaxy Mall.

c) Jane goes to gym daily.

d) A river flows through our town.

e) Riya and Rahi are twin sisters.

f) We have a very big library in our school.

3. Look at the picture given below and make a list of the names of at least eight things that you can find in it.



i) \_\_\_\_\_

v) \_\_\_\_\_

ii) \_\_\_\_\_

vi) \_\_\_\_\_

iii) \_\_\_\_\_

vii) \_\_\_\_\_

iv) \_\_\_\_\_

viii) \_\_\_\_\_

**DAV MODEL SCHOOL, KSTP, ASANSOL**  
**SESSION: 2024-25**  
**HOLIDAY HOMEWORK**  
**SUBJECT: ENGLISH**  
**WORKSHEET:2**

Name \_\_\_\_\_ Class \_\_\_\_\_ Sec \_\_\_\_\_ Roll no \_\_\_\_\_

---

**1. Rearrange the jumbled letters to form a meaningful word.**

- a. YPUPP \_\_\_\_\_
- b. ROESH \_\_\_\_\_
- c. LICEDOROC \_\_\_\_\_
- d. RAPROST \_\_\_\_\_

**2. Write down the opposite words of these following words.**

- a. Fall \_\_\_\_\_
- b. Wet \_\_\_\_\_
- c. Shallow \_\_\_\_\_
- d. Hard \_\_\_\_\_

**3. Match the animals with their sounds.**

- |            |            |
|------------|------------|
| a) Sheep   | i) squeak  |
| b) Cat     | ii) baa    |
| c) Mice    | iii) cluck |
| d) Duck    | iv) purr   |
| e) Chicken | v) screech |
| f) Bat     | vi) quack  |

**4. Answer the following questions:**

- a. What is the sound of coyotes called?

---

---

b. Can dolphins be called ‘mammals’? Give reasons for your answer.

---

---

---

---

---

---

---

---

c. Write two important features of dolphins.

---

---

---

---

---

---

---

---

---

---

**5. Imagine yourself to be the woman who was saved by the dolphin. Describe in a few sentences what happened to you.**

**D.A.V. MODEL SCHOOL, KSTP, ASANSOL**  
**HOLIDAY HOME WORK (SUMMER VACATION)**  
**SESSION: 2024-2025**

**WORK SHEET NO.:-1(पाठ:2 भारतदेश)**

**SUBJECT: HINDI**

**CLASS:III**

Name \_\_\_\_\_ Roll No: \_\_\_\_\_ Section: \_\_\_\_\_

1. निम्नलिखित अपठित गद्यांश को पढ़कर पूछे गए प्रश्नों का उत्तर लिखिए:-

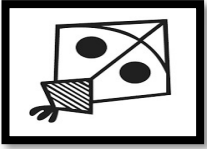
हाथी सबसे भारी-भरकम पशु है। जंगली हाथी जहाँ भी जाते हैं, सारा परिवार झुंड में जाता है। असम के हाथियों का यह झुंड एक नए जंगल की ओर चला। उन्हें एक साथ बड़ा-सा तालाब दिखाई दिया। नहाने धोने, कीचड़ लपेटने और सूँड से फुहारा छोड़ने के लिए इस तालाब में बहुत पानी था।

(क) सबसे भारी-भरकम पशु कौन-सा है?


(ख) हाथियों का झुंड किस राज्य में था?

(ग) हाथी झुंड में चलते हैं या अकेले?

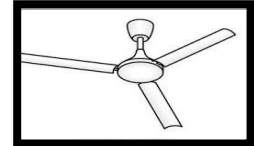
2. प्रस्तुत चित्रों के आधार पर ऐसे शब्द लिखिए जिसमें 'अनुनासिक' अथवा 'अनुस्वार' अक्षर का प्रयोग हुआ है -



\_\_\_\_\_



\_\_\_\_\_



\_\_\_\_\_

3. निम्नलिखित शब्दों के दो समानार्थी वाले शब्द लिखिए-

भूमि \_\_\_\_\_ रात्रि \_\_\_\_\_

4. निम्नलिखित कथन को पढ़कर सही विकल्प वाले उत्तर छाँटकर लिखिए-

कथन: 'विलोम' शब्द का अर्थ 'उल्टा' या 'विपरीत' होता है।

कारण : किसी शब्द का उल्टा अर्थ व्यक्त करने वाला शब्द 'विलोमार्थक' शब्द कहलाता है

- (i) कथन और कारण दोनों सही हैं, क्योंकि कारण कथन की सही व्याख्या करता है।
- (ii) कथन और कारण दोनों सही हैं, परंतु कारण कथन की सही व्याख्या नहीं करता है।
- (iii) कथन सही है, परंतु कारण गलत है।
- (iv) कथन गलत है, परंतु कारण सही है।

5. निम्नलिखित शब्दों के उचित संबंध वाले विकल्प छाँटकर लिखिए-

(क) दानव : मानव :: देखना : ?

(i) घटना      ii) पीटना      iii) चढ़ना      iv) सुनना

(ख) प्राणी : जीव :: संसार : ?

i) कठिनाई      ii) परिश्रम      iii) मेहनत      iv) दुनिया

6. निम्नलिखित प्रश्नों के उत्तर (20 - 25 शब्दों में) लिखिए-

(क) आपको अगर मौका मिले तो आप अपने देश की तरक्की के लिए क्या-क्या करेंगे ? अपने शब्दों में लिखिए।

(ख) नदियों के पानी को आप किस तरह से प्रयोग करेंगे 'भारतदेश' कविता के आधार पर उत्तर दीजिए।

7. दिए गए चित्रों को देखकर अपना विचार (40 - 50 शब्दों में) लिखिए-



---

---

---

---

---

D.A.V. MODEL SCHOOL, KSTP, ASANSOL  
HOLIDAY HOMEWORK (SUMMER VACATION)  
SESSION:2024-2025

WORK SHEET NO:-2(पाठ:3 हाथी और चिड़िया)

SUBJECT:HINDI

CLASS III

Name \_\_\_\_\_ Roll No: \_\_\_\_\_ Section: \_\_\_\_\_

1.निम्नलिखित अपठित गद्यांश को पढ़कर पूछे गए प्रश्नों का उत्तर लिखिए:-

मोर बहुत सुंदर पक्षी है। यह हमारे देश का राष्ट्रीय पक्षी भी है। इसलिए इसे पक्षियों का राजा कहते हैं। मोर का शरीर बड़ा और भारी होता है। यही कारण है कि आसमान में ऊँचा नहीं उड़ सकता है। मोर प्रायः झाड़ियों में रहता है। मोर की गर्दन लंबी होती है। इसके सिर पर एक सुंदर कलंगी लगी होती है। मोर के पंख बहुत आकर्षक होते हैं। इसके पंखों पर आधे चाँद जैसा निशान होता है। वर्षा ऋतु में बादलों को देखकर यह थिरकने लगता है और अपने पंख फैलाकर आकर्षक नृत्य प्रस्तुत करता है। यह कीड़े- मकोड़े और अनाज खाता है। यह साँपों का शत्रु होता है। लड़ाई में उन्हें मार डालता है।

(क) मोर के सिर पर क्या होता है?

---

---


---

(ख) वर्षा ऋतु में मोर क्या करता है?

---

---

(ग) चित्र को देखकर अपठित गद्यांश में आए शब्द को लिखिए-



---



---

2. निम्नलिखित शब्दों के समान अर्थ वाले शब्द पर घेरा लगाइए:-

(क) माँ- सहेली ,दोस्त ,प्रिय, माता

(ख) फूल - पुष्प, वर्षा, ऋतु ,कलम

3. निम्नलिखित वाक्यों के सामने सही और गलत का निशान लगाइए:-

(क) हमें दूसरों की मदद करनी चाहिए।

(ख) हमें बड़ों का सम्मान करना चाहिए।

4. निम्नलिखित कथन को पढ़कर सही विकल्प वाले उत्तर छाँटकर लिखिए-

अभिकथन:-'मूर्ति' का बहुवचन 'मूर्तियाँ' होता है।

तर्क:-शब्द के जिस रूप से अनेक वस्तुओं का बोध होता है उसे "बहुवचन" कहते हैं।

- (i) कथन और कारण दोनों सही हैं, क्योंकि कारण कथन की सही व्याख्या करता है।
- (ii) कथन और कारण दोनों सही हैं, परंतु कारण कथन की सही व्याख्या नहीं करता है।
- (iii) कथन सही है, परंतु कारण गलत है।
- (iv) कथन गलत है, परंतु कारण सही है।

5. निम्नलिखित प्रश्नों के उत्तर (20 -25 शब्दों में) लिखिए-

(क) हाथी की जगह अगर आप होते तो क्या आप पेड़ को उखाड़ते? तर्क पूर्ण उत्तर लिखिए।

---

---

---

(ख) मान लीजिए कि आप चिड़िया होते तो आप अपना घर किस तरह से तैयार करते? अपना विचार लिखिए।

---

---

---

6. प्रस्तुत चित्र को देखकर किन्हीं पाँच अच्छी आदतों को लिखिए -



---

---

---

---

---

---

---

---

---

---

---

---



**D.A.V. MODEL SCHOOL**  
**HOLIDAY HOMEWORK WORKSHEET – I**

**CLASS :III**

**SUBJECT : BENGALI**

**NAME: \_\_\_\_\_ SEC: \_\_\_\_\_ ROLL: \_\_\_\_\_**

**TOPIC : ( বর্ষার দিনে , প্রভাত , ধ্বনি ও বর্ণ , চিত্র বর্ণনা )**

1. সঠিক উত্তরটি নির্বাচন করে লেখ ।

ক) জোড়াসাঁকোর বাড়িটি ছিল - ( একতলা / দোতলা / তেতলা )।

উ: \_\_\_\_\_

খ) কত দিন ধরে একটানা বৃষ্টি হচ্ছিল- ( চার দিন / পাঁচ দিন / সাত দিন )।

উ: \_\_\_\_\_

গ) ছোটরা রথের দিনে বাঁশি বাজাতো - ( তালপাতার / আম পাতার / বাঁশপাতার )।

উ: \_\_\_\_\_

ঘ) যাদুধন ( প্রভাতে / সন্ধ্যায় / বিকালে ) গৌরবে থাকে।

উ: \_\_\_\_\_

ঙ) রথের ভিতর রাখা হয় জগন্নাথের - ( মাটির / কাঠের / লোহার ) মূর্তি।

উ: \_\_\_\_\_

চ) কাক ডাকে - ( ঘরের চালে / বাগানে / বারান্দায় )।

উ: \_\_\_\_\_

ছ) কুমারী মেয়েরা ফুল তোলে - ( বাঁশ পাতায় / কলা পাতায় / কচুর পাতায় )।

উ: \_\_\_\_\_

2. 'প্রভাত' কবিতাটির প্রথম চারটি লাইন কবির নাম সহ লেখ।

\_\_\_\_\_

\_\_\_\_\_

\_\_\_\_\_

\_\_\_\_\_

\_\_\_\_\_

3. অর্থ লেখ -

ক) দাদুরি - \_\_\_\_\_ খ) বাদলা - \_\_\_\_\_

গ) যাদুধন - \_\_\_\_\_ ঘ) অলিকুল - \_\_\_\_\_

4. বিপরীত শব্দ লেখ -

ক) গৌরব - \_\_\_\_\_ খ) আরম্ভ - \_\_\_\_\_  
গ) ঘুমিয়ে - \_\_\_\_\_ ঘ) ফর্সা - \_\_\_\_\_

5. বাক্য রচনা কর।

ক) বাহার - \_\_\_\_\_  
খ) খোশগল্প - \_\_\_\_\_  
গ) নাচঘর - \_\_\_\_\_

6. নিচের প্রশ্নগুলির পূর্ণ বাক্যে উত্তর দাও।

ক) সেকালের বর্ষার দিনে সবাই মাথায় কী দিত ?

উ: \_\_\_\_\_  
\_\_\_\_\_

খ) লেখককে কে ঘুম পাড়াত ?

উ: \_\_\_\_\_  
\_\_\_\_\_

গ) বেশি বৃষ্টিতে ঠাকুরবাড়িতে কী রান্না হত ?

উ: \_\_\_\_\_  
\_\_\_\_\_

ঘ) কুমারী মেয়েরা কীভাবে ফুল তুলছে ?

উ: \_\_\_\_\_  
\_\_\_\_\_

7. নিচের প্রশ্নগুলি যথাযথ উত্তর দাও।

ক) বৃষ্টি শুরু হতে জোড়াসাঁকোর ঠাকুরবাড়ির অবস্থা কেমন হল ?

উ: \_\_\_\_\_  
\_\_\_\_\_

খ) "মেঘলা আলোকে রোদ পরাত চাঁপাই শাড়ি"- এর অর্থ বুঝিয়ে দাও।

উ: \_\_\_\_\_  
\_\_\_\_\_

গ) সকালবেলা পশুপাখিরা কী করে, বর্ণনা করো।

উ: \_\_\_\_\_

8. নিচের চিত্রটি বর্ণনা করে পাঁচটি বাক্য লেখ।



উঃ

9. হাতের লেখা লেখ : সদা সত্য কথা বলা উচিত।

10. নিচের দেওয়া বাক্যগুলিকে সংশোধন করে সঠিক বাক্যটি লেখ।

ক) স্পর্শ বর্ণের সংখ্যা ২১ টি।

উ: \_\_\_\_\_

খ) বাংলায় কার- এর সংখ্যা ১৮টি।

উ: \_\_\_\_\_

গ) ব্যঞ্জনধ্বনি গুলি নিজে থেকে উচ্চারিত হতে পারে।

উ: \_\_\_\_\_

ঘ) 'উষ্ম' শব্দের অর্থ প্রশ্বাস।

উ: \_\_\_\_\_

ঙ) ধ্বনি তিন ধরনের হয়।

উ: \_\_\_\_\_

11. সঠিক উত্তরটির উপর (✓) চিহ্ন দাও।

ক) দীর্ঘস্বর হল - ( ছয়টি / সাতটি)।

খ) হ্রস্ব স্বর উচ্চারণ করতে - ( কম / বেশি ) সময় লাগে।

গ) স্পর্শ বর্ণগুলিকে ( দুটি / পাঁচটি ) ভাগে ভাগ করা যায়।

ঘ) ধ্বনির পর ধ্বনি জুড়ে তৈরি হয়- ( পদ / শব্দ)।

ঙ) যৌগিক স্বর বলা হয় - ( ই / ঙ ) কে ।

চ) বাংলা বর্ণমালায় বর্ণের সংখ্যা - ( ৩৫ / ৪৬ ) টি ।

ছ) 'ণ' হল - ( ত / ট ) বর্ণের অন্তর্গত।

12. বাঁ দিকের সঙ্গে ডান দিককে মিলিয়ে পুরো বাক্যটি লেখ।

বামদিক

ক) 'র' যদি ব্যঞ্জনবর্ণের আগে

খ) 'ক' ও 'ষ' কে জুড়ে লেখা হয়

গ) ল-ফলা যুক্ত একটি

ঘ) ধ্বনির লিখিত রূপ

ঙ) 'উ'একটি

উ:ক) \_\_\_\_\_

খ) \_\_\_\_\_

গ) \_\_\_\_\_

ঘ) \_\_\_\_\_

ঙ) \_\_\_\_\_

ডানদিক

i) হল বর্ণ

ii) বসে তাহলে তার 'রেফ' হয়

iii) হ্রস্ব স্বর

iv) শব্দ হলো ম্লান

v) ক্ষ

13. ACTIVITY : বর্ষার দিনে ব্যবহার হয় এমন কিছু জিনিসের চিত্র অঙ্কন করে তাদের নাম বাংলা ও তামিল ভাষায় লেখ।

[DO THIS ACTIVITY IN COLOUR A4 PAGE AND PASTE IT NICELY IN YOUR BENGALI CLASS WORK COPY]

**D.A.V.MODEL SCHOOL, KSTP, ASANSOL**  
**HOLIDAY HOMEWORK**  
**SESSION 2024-2025**

**Class: III**

**Subject: SCIENCE**

**Choose the correct options.**

1 .A girl felt very happy after eating ice cream by tasting it through –

a. Skin b. Tongue c Nose d. Ear.

2. What do plants release in the air?

a. Hydrogen b. Oxygen c. Nitrogen d. Carbon dioxide.

3. When we are eating sugarcane, we are actually eating the –

a. Leaves of plant b. Roots of plant c. Stem of plant d. Flower of plant.

**Each question consists of two statements namely, Assertion (A) and Reason (R).For selecting the correct answer, use the following options.**

**(a) Both Assertion (A) and Reason (R) are the true and Reason (R) is a correct explanation of Assertion (A).**

**(b) Both Assertion (A) and Reason (R) are the true but Reason (R) is not a correct explanation of Assertion (A).**

**(c) Assertion (A) is true and Reason (R) is false.**

**(d) Assertion (A) is false and Reason (R) is true.**

4. Assertion (A) -Skin is the sensory organ for touch and is also the largest sense organ.

Reason(R)- Our sense of touch is associated with a sensation of heat, cold, pain.

---

5 Assertion (A) Plants are usually grouped into herbs, shrubs, trees, climbers, creepers.

Reason(R) -The plants are classified on the basis of their height, nature of stem and branches.

---

**Q 6 and 7 are short questions and needs to be written in 20-30 words.**

6 .Write any two activities where we use more than one sense organ.

---

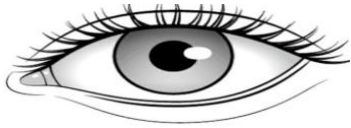

---

7. Define trees. Write any two features of trees.

---

---

**8. Complete the following table.**

<b>Sense organs</b>	<b>Function</b>	<b>Diagram</b>
1. Eyes		
2.	It helps us to differentiate between good and bad smell	
3. Tongue		
4.	It helps us to feel rough and smooth surface	
5.		

**9. Shalu and Ria were good friends. In the classroom Shalu saw that Ria was putting pencil in her ear. Shalu saw it and inform her class teacher about it. Class teacher explain Ria not to put the pencil in the ear.**

A. Why class teacher had told Ria not to put pencil in her ear?

---

---

B. What is the role of ear in our body?

---

---

C. Suggest any two ways to take care of sense organs.

---


---

D. Write the names of four sense organs other than ear.

---

---

**10 .Label the different parts of the plant. Also write the function of each part.**



**Function.**

1. \_\_\_\_\_

2. \_\_\_\_\_

3. \_\_\_\_\_

4. \_\_\_\_\_

5. \_\_\_\_\_



# D.A.V. MODEL SCHOOL, KSTP, ASANSOL

## HOLIDAY HOME WORK (WORKSHEET - 1)

SESSION: 2024-2025

SUBJECT: MATHEMATICS

CLASS: III

Name \_\_\_\_\_ Roll No: \_\_\_\_\_ Section: \_\_\_\_\_

### A. Tick the correct option:

1. In 3752, which digit is at the hundreds place ?

- (i) 3                      (ii) 7                      (iii) 2                      (iv) 5

2. The successor of 7010 is

- (i) 7011                      (ii) 7110                      (iii) 7111                      (iv) 7009

3. Select the correct option.

84 is equal to ?

- (i)  $40 + 80$                       (ii)  $4 + 8$                       (iii)  $80 + 4$                       (iv)  $40 + 8$

4. Which number will come in the blank:

$$40 + 13 + \underline{\hspace{2cm}} = 60$$

- (i) 7                      (ii) 3                      (iii) 17                      (iv) 23

5. **Statement 1 : Sum of 3385, 234 and 155 is 7752.**

**Statement 2 : Place value of 6 in the number 2368 is 60.**

- (i) Statement 1 is true but statement 2 is false.  
(ii) Statement 1 is false but statement 2 is true.  
(iii) Both statements are true.  
(iv) Both statements are false.

### B. Short Answer Type Questions :

6. Complete the pattern :

200, 205, 210, 215, \_\_\_\_\_, \_\_\_\_\_, \_\_\_\_\_, \_\_\_\_\_

7. Write the number having “3” in the hundreds place, “5” in the ones place and “2” in the tens place.

### C. Long Answer Type Questions :

8. A yoga class had 125 students in the beginning of the month. 95 more students joined later.  
How many students are there in the yoga class now?

9. Srabhi has 14 m of ribbon with her. Sana has 15 m of ribbon. If they tie their ribbon together, what will be length of the new ribbon ?

**D. Case Based Questions :**

10. Ankita was given the digits 0, 7, and 9. She was asked to form the smallest 4-digit number by repeating any one digit. Rama was given the same digits and was asked to form the greatest 4-digit number by repeating any one digit.

Based on the given data, answer the following questions :

- a) What is the number formed by Ankita?
- b) What is the number formed by Rama?
- c) Write both the numbers in expanded form .

# D.A.V. MODEL SCHOOL, KSTP, ASANSOL

## HOLIDAY HOME WORK (WORKSHEET - 2)

SESSION: 2024-2025

SUBJECT: MATHEMATICS

CLASS: III

Name \_\_\_\_\_ Roll No: \_\_\_\_\_ Section: \_\_\_\_\_

### A. Tick the correct option:

- Find the missing digit.  $445 + \underline{\quad} = 766$   
(i) 321      (ii) 322      (iii) 320      (iv) 329
- $2 \text{ tens} + 4 \text{ tens} + \underline{\quad} = 90$ .  
(i) 3 Tens      (ii) 5 Tens      (iii) 4 Tens      (iv) 2 Tens
- Which of the following is the same as  $5 + 40 + 2$  ?  
(i)  $50 + 4 + 2$    (ii)  $2 + 50 + 40$       (iii)  $40 + 7$       (iv)  $90 + 2$
- Which number comes just BEFORE 5 tens?  
(i) 49   (ii) 40   (iii) 14   (iv) 4

5. **Statement 1 : 7691 is smaller number than 9999.**

**Statement 2 : 5000, 7500, 8540, 7861 are arranged in descending order.**

- Statement 1 is true but statement 2 is false.
- Statement 1 is false but statement 2 is true.
- Both statements are true.
- Both statements are false.

### B. Short Answer Type Questions :

6. Write the expanded form in two ways : 5679

7. Write the number names of :

a) 6518 :

b) 4321 :

### C. Long Answer Type Questions :

8. Hitesh drove 145 km on Monday and 340 km on Tuesday. How many kilometers did he drive in all ?

9. Find the sum of the greatest 4-digit number, the smallest 3-digit number and the greatest one-digit number.

**D. Case Based Questions :**

10. Lata and her grandfather went to a community library. In the library, there were 5900 books in Hindi and 4099 books in English. Lata took one Hindi story book of the library and lost it. Next day her grandfather donated 2 Hindi story book to the library.

Based on the given data, answer the following questions :

- a) How many total books were present in the library ?
- b) Write the total number of books in words following Indian Number system.
- c) Write the expanded form for the number of Hindi Books.
- d) Write the successor and predecessor of the given numbers of Hindi and English books.
- e) When Lata's grandfather donated the books, how many Hindi books were now in the library ?

**DAV MODEL SCHOOL, K S T P, ASANSOL**

**HOLIDAY HOMEWORK**

**SESSION – 2024-25**

**WORKSHEET -1**

NAME: \_\_\_\_\_ ROLL NO: \_\_\_\_\_ SECTION: \_\_\_\_\_

**1. Tick the correct option :**

i. Vishu's grandmother runs a training centre for –

a. Young people ( ) b. Old people ( ) c. Poor women ( ) d. Children ( )

ii. Where do children get training to grow up into good citizens?

a. Parks ( ) b. Cinema halls ( ) c. Home ( ) d. Garden ( )

iii. Rakesh Sharma is a famous –

a. Cricketer ( ) b. Astronaut ( ) c. Singer ( ) d. Leader ( )

iv. Your paternal grandparents are your-

a. Mother's parents ( ) b. Father's parents ( ) c. Both ( ) d. None of the above ( )

v. People should follow correct eating habits for a-

a. Healthy life ( ) b. Tired life ( ) c. Both ( ) d. None of the above ( )

**2. Fill in the blanks:**

i. Vishu learnt \_\_\_\_\_ from his grandfather.

ii. Many children resemble their \_\_\_\_\_, uncles, aunts or cousins.

**3. Match the following :**

i. Kheer

a. USA

ii. Sunita William

b. Nagpur

iii. Son papdi

c. Rice pudding

**4. Answer the following questions:**

**i. How do your parents help you in your study ?**

-----  
-----  
-----

**ii. What is the difference between a nuclear and a joint family ?**

-----  
-----  
-----  
-----

**iii. In what ways are you similar to your family members?**

-----  
-----  
-----

**iv. Do you want to follow the occupation of your family members? Why?**

-----  
-----  
-----

**v. Write five principles of food according to your view.**

-----  
-----  
-----  
-----

vi. Make a card for a family member whom you want to thank. Mention the reason for your gratitude .

vii. What confusion can be created if the twins are identical ?

-----  
-----  
-----

viii. Name five food items that we get from animals .draw the food items also.

-----  
-----  
-----

ix. Map Skill

On a political map of India, colour and label the following states—

- a. Famous state for gostaba.
- b. One state of north India.
- c. State famous for Biryani.
- d. State where you born.
- e. State where you want to visit with your parents.





**DAV MODEL SCHOOL, K S T P, ASANSOL**

**HOLIDAY HOMEWORK**

**SESSION – 2024-25**

**WORKSHEET -2**

**NAME:** \_\_\_\_\_ **ROLL NO:** \_\_\_\_\_ **SECTION:** \_\_\_\_\_

**1. Tick the correct option:**

i. What is the food speciality of Gujarat?

- a. Cake                      b. Dosa                      c. Dhokla                      d. Roti and fish

ii. The spice that is commonly eaten fresh is-----

- a. Pepper                      b. Ginger                      c. Clove                      d. None

iii. Backbone of the foods eaten in India---

- a. Dosa                      b. Rotis                      c. Fruits                      d. Dal

iv. The staple diet of Punjab is----

- A. Chappatis                      b. Rice                      c. Corn                      d. Idli

**2. Fill in the blanks :**

i. We get cheese from \_\_\_\_\_.

ii. Food habits of people depend on \_\_\_\_\_ and crops grown in that area.

iii. We get meet from \_\_\_\_\_.

**3. Match the following :**

- |            |                 |
|------------|-----------------|
| a. Shabads | i. Hilly area   |
| b. Langar  | iii. Rajasthan  |
| c. Desert  | iii. Gurudwara  |
| d. Tea     | iv. West Bengal |

4. Answer the following questions:

i. Why is it important not to waste food, water and electricity?


-----  
-----  
-----  
-----  
-----

ii. List two factors that influence the food habits of people.

-----  
-----  
-----

iii. Name five food items that we get from plants and also draw .

-----  
-----



iv. Why are the food habits of people changing?

-----  
-----  
-----

v.Mention the qualities that are needed to have good relations with others.

-----  
-----  
-----  
-----

vi.What confusion can be created if the twins are identical?

-----  
-----  
-----  
-----


vii.List four ways in which the family members can resemble one another.

-----  
-----  
-----  
-----

-viii.How do family members share their joys together? Explain with example.

-----  
-----  
-----  
-----

ix. Write any five states name and paste the picture of famous dishes.



x.Map Skill:

On a political map of India, label and colour—

a.Delhi

b.Kolkata

c.Kerala

d.Madhya Pradesh

e.Jharkhand

